

ELEKTRIESE TEGNOLOGIE: DIGITAAL

EKSAMENNOMMER

--	--	--	--	--	--	--	--	--	--	--	--	--	--	--	--	--	--	--	--

Tyd: 3 uur

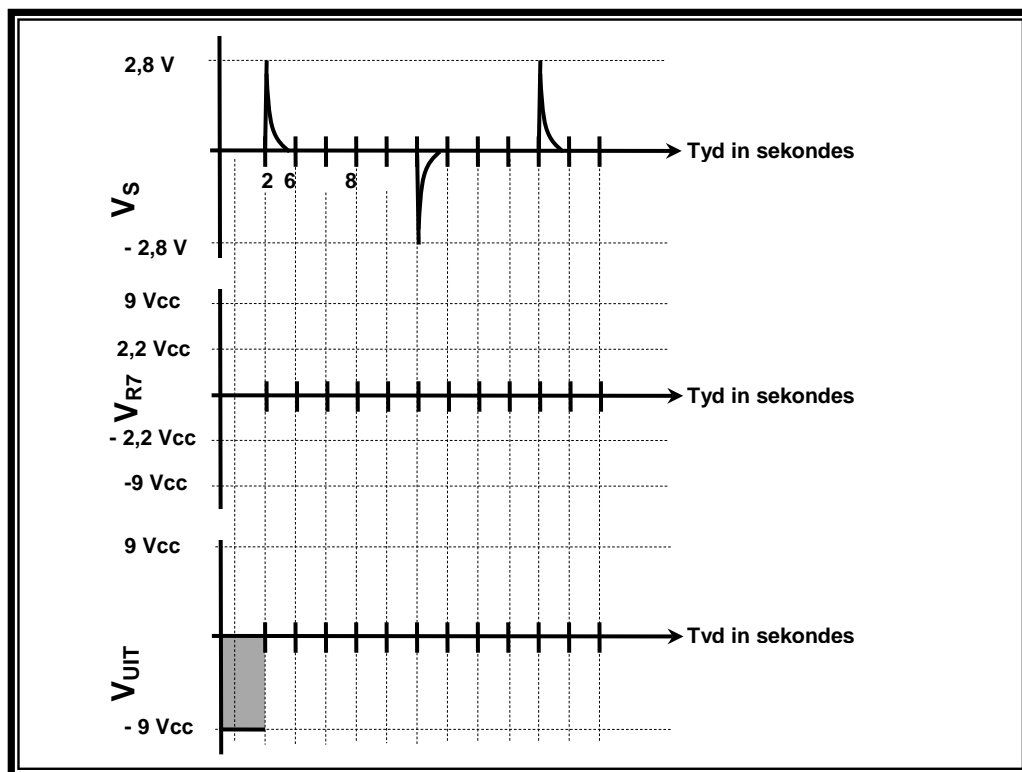
200 punte

ANTWOORDBLAD

Heg hierdie Antwoordblad as laaste bladsy van jou Antwoordboek vas.

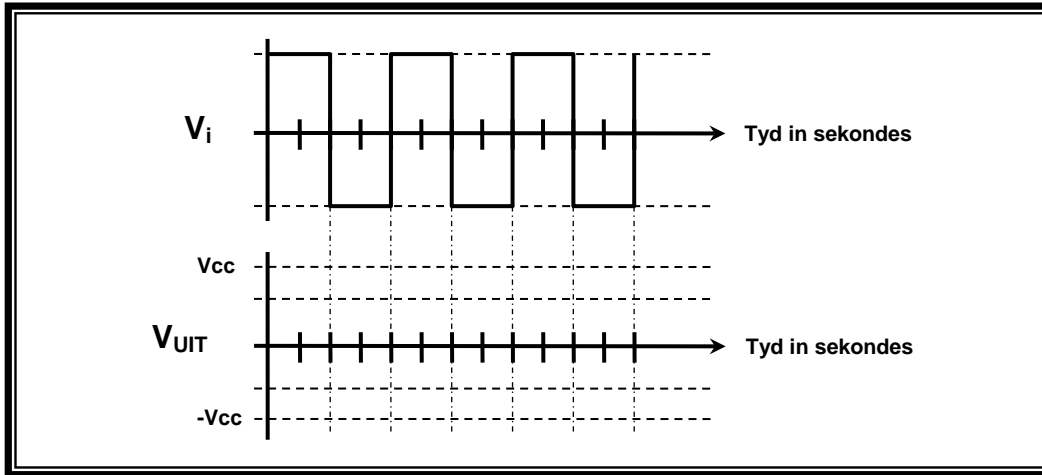
VRAAG 3 SKAKEL EN BEHEER KRINGBANE

3.2.2 Voltooi jou skets in pen.



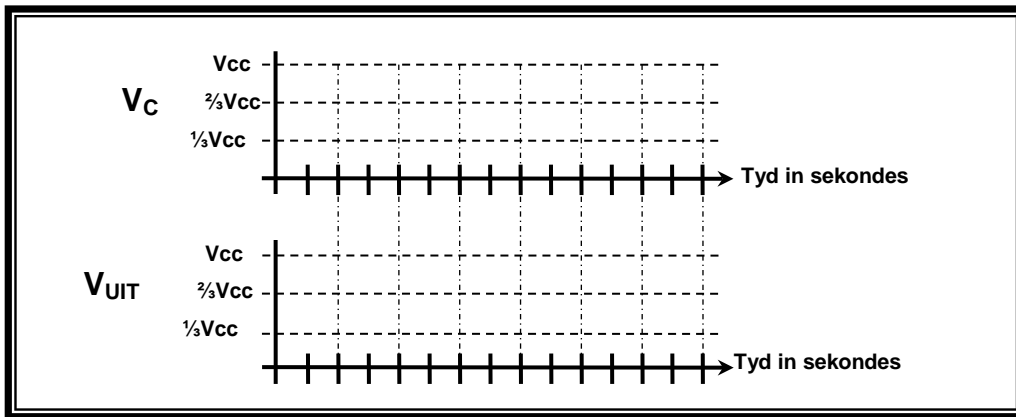
(5)

3.5.2



(2)

3.7.2



(4)

VRAAG 4 DIGITALE EN SEKWENSIËLE TOESTELLE

4.5.1

EN	S	R	Q
0	0	0	Qn
0	0	1	Qn
0	1	0	Qn
0	1	1	
1	0	0	Qn
1	0	1	
1	1	0	
1	1	1	

(4)